

Заполняется ПЕЧАТНЫМИ БУКВАМИ чернилами черного или синего цвета по образцам:

А	Б	В	Г	Д	Е	Ж	З	И	К	Л	М	Н	О	П	Р	С	Т	У	Ф	Х	Ц	Ч	Ш	Щ	Ъ	Ы	Ь	Э	Ю	Я	@	8	9	,
A	B	C	D	E	F	G	H	I	J	K	L	M	N	O	P	Q	R	S	T	U	V	W	X	Y	Z	1	2	3	4	5	6	7	0	.

ПРЕДМЕТ

Физическая культура

КЛАСС

6

ДАТА

23.09.2024

ШИФР УЧАСТНИКА

96-5

ФАМИЛИЯ

Емельяненко

ИМЯ

Елизаветы

ОТЧЕСТВО

Сергеевны

ВСЕРОССИЙСКАЯ ОЛИМПИАДА ШКОЛЬНИКОВ
ПО ФИЗИЧЕСКОЙ КУЛЬТУРЕ
2024–2025 уч.г.
ШКОЛЬНЫЙ ЭТАП

96-5

5–6 классы

ТЕОРЕТИКО-МЕТОДИЧЕСКИЙ ТУР

1. В каком виде спорта используется данный мяч?







- а) волейбол
- б) футбол
- в) гандбол
- г) баскетбол +1.

2. Какой ступени соответствуют нормы ГТО для школьников 11–12 лет?

- а) 1 ступень
- б) 2 ступень -0.
- в) 3 ступень
- г) 4 ступень

3. Какую награду получали победители античных Олимпийских игр?


а) 	б) +1. 	в) 	г) 
---	---	--	---

4. Как называется гимнастическое положение, представленное на рисунке?




- а) исходное положение
- б) основная стойка - 0
- в) стойка руки вниз
- г) стойка ноги вместе


5. Какой из талисманов соответствует зимним Олимпийским играм, проходившим в 2014 году в Сочи?



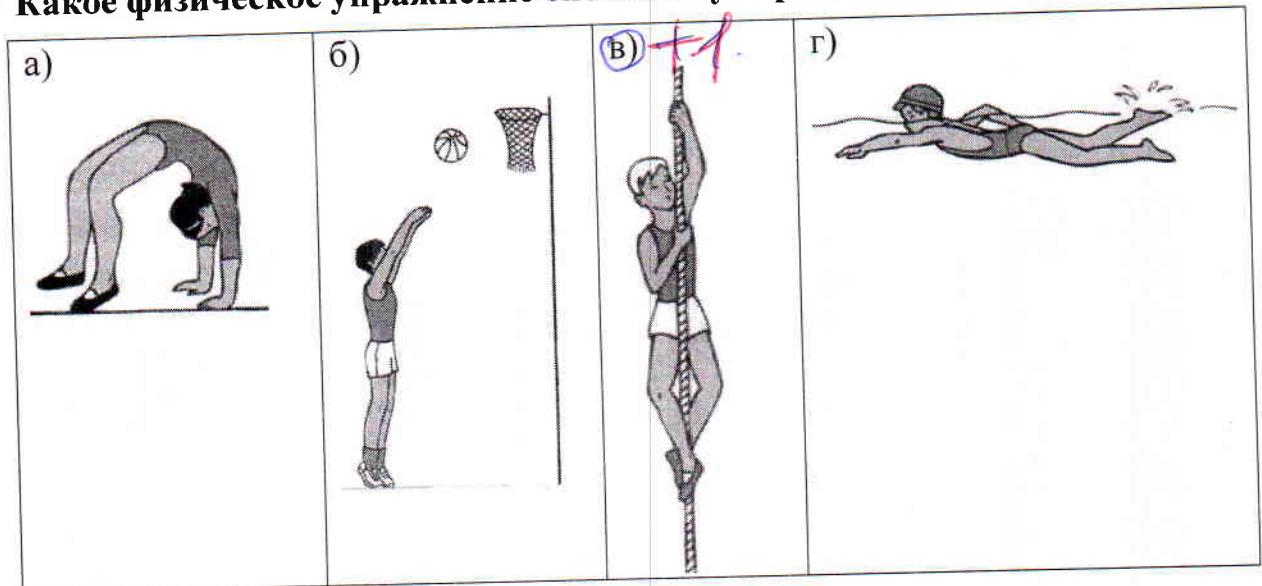
6. На каком изображении представлен вис на согнутых руках?



7. На какой фотографии изображена олимпийская чемпионка Светлана Хоркина?



8. Какое физическое упражнение способствует развитию силы?



9. Вид спорта, соединявший в себе борьбу и кулачный бой. Входил в программу античных Олимпийских игр.

- а) пентатлон
- б) панкратион
- в) долиходром
- г) гоплитодром

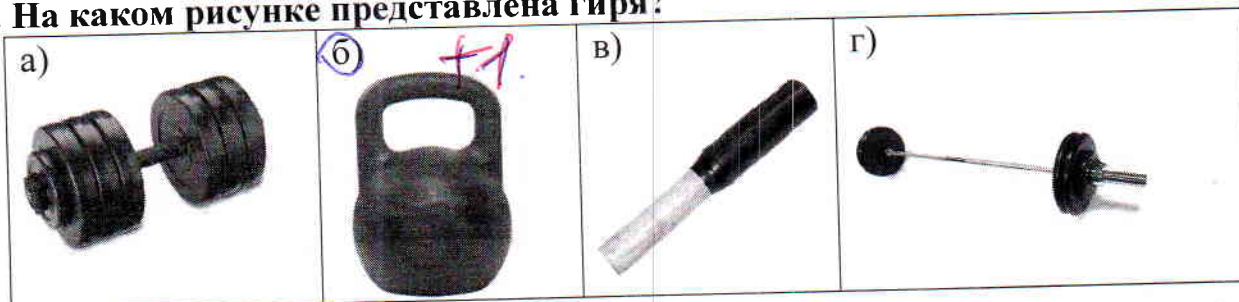
10. В каком виде спорта мяч имеет наибольший размер?

- а) гольф
- б) настольный теннис
- в) бейсбол
- г) баскетбол

11. В каком виде спорта соревнования проводятся как на открытом воздухе, так и в крытых сооружениях?

- а) лёгкая атлетика +1
- б) фигурное катание
- в) лыжные гонки
- г) фехтование

12. На каком рисунке представлена гирия?



13. Назовите вид спорта, в котором спортивная обувь, представленная на рисунке, является частью экипировки?

фигурное катание - 0



14. Педагог, специалист в каком-либо виде спорта, занимающийся подготовкой спортсменов, – это тренер. +2

15. В каком году до нашей эры праздновались первые античные Олимпийские игры? В ответ запишите только число. ← 0

16. Способность выполнять движение с большой амплитудой – это ← 0


17. Спортивное сооружение, изображённое на фотографии, – это футбольное поле - 0



18. Установите соответствие между изображениями и видами закаливания водой.

Изображение	Вид закаливания
<p>1)</p>  <p style="color: red; font-size: 2em; margin-left: 200px;">+1.</p>	<p>А) обливание</p>
<p>2)</p>  <p style="color: red; font-size: 2em; margin-left: 200px;">+1.</p>	<p>Б) обтирание мокрым полотенцем</p>
<p>3)</p>  <p style="color: red; font-size: 2em; margin-left: 200px;">+1.</p>	<p>В) ножные ванны</p>
<p>4)</p>  <p style="color: red; font-size: 2em; margin-left: 200px;">+1.</p>	<p>Г) купание в открытом водоёме</p>

19–20. Разгадайте ребус. Используя иллюстрации, составьте термины из области физической культуры и спорта.




19.

Боже

+2

20.



Франция +2

Теория — 15

Практика — 34,45

Итого: 45,45

Проверила учитель физической культуры Шайда